

CONCURSUL „CHEIA SUCCESULUI”

Ediția a X-a

25 martie 2017

Subiecte - Limba și literatura română, geografie, istorie

Clasa a VI-a

Limba și literatura română

Citește cu atenție textul următor:

„A fost odată ca niciodată, că, dacă n-ar fi, nu s-ar povesti. A fost un balaur moșneag care a mai rămas cu un cap, restul au murit de bătrânețe. Nici el nu ținea minte câte capete a avut în tinerețe, dar, oricum, mai multe decât degetele de la mâini. Era un balaur bun, care scotea pe nări flăcări mici, cam ca la bricheta lui tata. De aceea lumea îl chema să aprindă aragazul. Când trecea pe stradă, băga capul pe geamul de la bucătărie, chiar și la etajul patru, și îți aprindea aragazul dacă aveai nevoie. (...) Era un balaur bun și blând, dar care noaptea nu dormea în oraș, ci pe un *imaș** de la margine.”

(Dan Lungu -*De vorbă cu Șopron*, volumul *Băieți de gașcă*)

*imaș** - teren necultivat pe care crește iarbă, folosit pentru pășunat

1. Precizează numărul de sunete din care este alcătuit fiecare dintre cuvintele: *bricheta, geamul*.
(1 punct)
2. Notează câte un *antonim* potrivit pentru sensul din text al fiecăruia dintre cuvintele: *chema, blând*.
(1 punct)
3. Construiește câte o propoziție în care substantivul *balaur* să îndeplinească funcția sintactică de complement indirect, iar verbul *a rămas* să îndeplinească funcția sintactică de predicat verbal.
(4 puncte)
4. Prezintă, în aproximativ 40 de cuvinte (4 rânduri), impresiile pe care ți le-a creat balaurul descris în textul-suport, menționând un aspect care îl deosebește de același personaj, balaurul, așa cum îl știi din lecturile tale.
(2 puncte)
5. Imaginează-ți o continuare a fragmentului, de minimum 100 de cuvinte (10 rânduri), care să includă motivul plecării balaurului din oraș pe timpul nopții și o întâmplare neobișnuită.
(7 puncte)

Istoria

I. Scrie, pe foaia de concurs, cărui cuvânt din coloana A îi corespunde cuvântul din coloana B
(5 puncte)

A.

1. Mahomed al II-lea
2. Cristofor Columb
3. rege
4. Richard Inimă de Leu
5. prima universitate din lume

B.

- a. America
- b. cucerirea Constantinopolului
- c. Bologna
- d. suveran
- e. Saladin

II. Scrie, pe foaia de concurs, completarea la următoarele propoziții: **(5 puncte)**

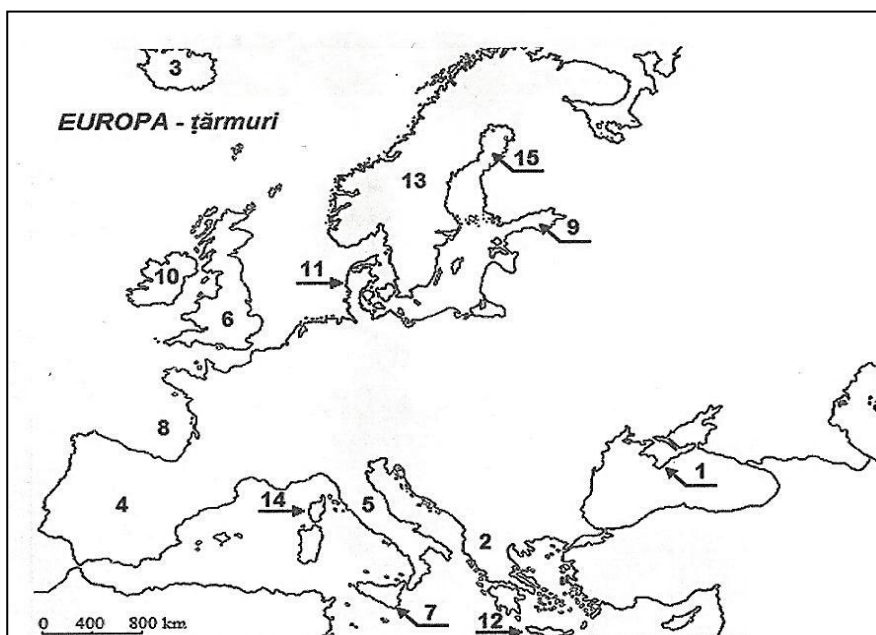
1. Expedițiile militare creștine împotriva statelor musulmane sau a ereticilor se numeau
2. Roma era sediul bisericii creștine conduse de
3. Lumea medievală era împărțită în trei stări: *cei care se roagă* (clerul), *cei care luptă* (.....) și *cei care muncesc* (țăranii și orășenii).
4. Ștefan cel Mare a fost domn în
5. Un domn al Valahiei care aplica pedepse foarte aspre, inclusiv tragerea în țeapă, a fost

III. Notați cu adevărat (A) sau fals (F) următoarele afirmații: **(5 puncte)**

- a. Michelangelo a pictat Gioconda (Monalisa).
- b. Dragoș a descălecat în Țara Românească.
- c. A patra cruciadă a cucerit Constantinopolul.
- d. În războiul de o sută de ani Franța a fost salvată de fecioara din Orleans numită Ioana d'Arc.
- e. Marea ciumă a avut loc în secolul al XIV-lea.

Geografie

I. Urmărește harta de mai jos și identificați articulațiile țărmurilor Europei notate cu numerele : 1, 2, 3, 4 și 13. **(5 puncte)**

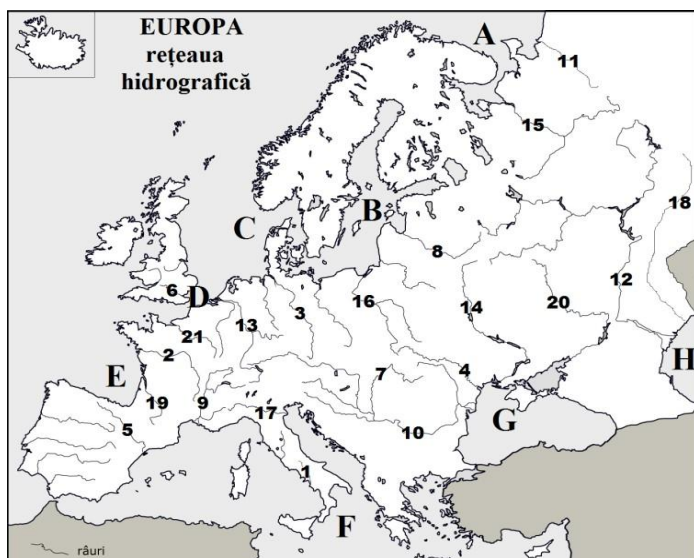


II. Scrie, pe foaia de concurs, litera corespunzătoare răspunsului corect:

(1,5 puncte)

1. Verile răcoroase și iernile blânde sunt specifice climatului:
a. alpin; **b.** temperat-oceanic; **c.** mediteranean; **d.** subpolar.
2. Orașele capitală traversate de Dunăre sunt:
a. Bratislava, Praga, Viena, Zagreb; **b.** Bratislava, Belgrad, București, Viena;
c. Belgrad, Bratislava, Viena, Zagreb; **d.** Viena, Bratislava, Belgrad, Budapesta.
3. Râsul este o specie de mamifere care trăiește în:
a. pădurea de foioase; **b.** silvostepă; **c.** taiga; **d.** zona mediteraneană.

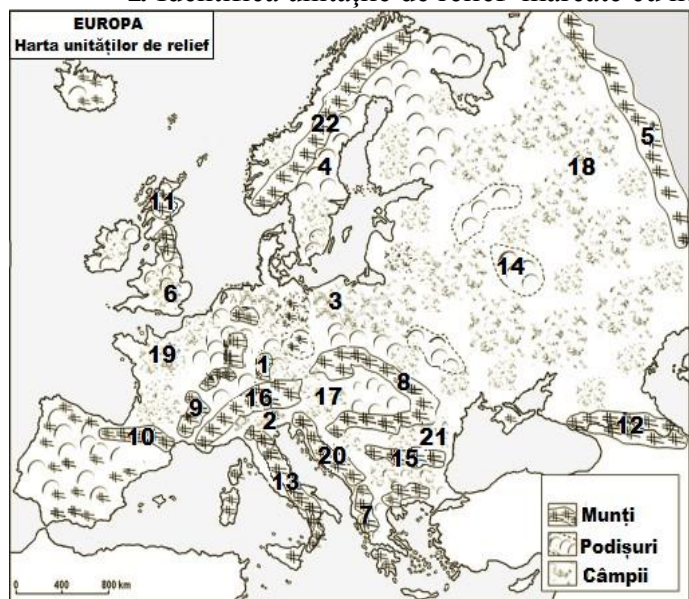
III. Analizează harta de mai jos și scrie, pe foaia de concurs, completarea la afirmațiile de mai jos: **(2 puncte)**



1. Cel mai lung fluviu european este marcat pe hartă cu numărul.....;
2. Fluviul marcat cu numărul 13 se varsă în Marea.....;
3. Orașul Londra este traversat de fluviul marcat cu numărul.....;
4. Râul marcat cu numărul 10 izvorăște din Munții.....

IV. Urmărește harta de mai jos și rezolvă următoarele cerințe: **(6,5 puncte)**

1. Identifică unitățile de relief marcate cu numerele: 5, 8, 10, 13, 16.



2. Scrie, pe foaia de concurs, litera corespunzătoare răspunsului corect din afirmațiile de mai jos:
 - A. Depășesc altitudini de peste 3000 m munții marcați, pe hartă, cu numerele:
 - a. 7 și 8; b. 13 și 15; c. 10 și 16; d. 15 și 20;
 - B. S-au dezvoltat pe structuri foarte vechi unitățile de relief marcate, pe hartă, cu numerele:
 - a. 12 și 8; b. 10 și 16; c. 11 și 22; d. 7 și 20;
 - C. Unitatea de relief marcată, pe hartă, cu numărul 17 este câmpia:
 - a. Panonică; b. Parisului; c. Padului; d. Română;
 - b.

Toate subiectele sunt obligatorii. Timp de lucru: 60 minute

CONCURSUL CHEIA SUCCESULUI

Ediția a X-a

25 martie 2017

Bareme - Limba și literatura română, geografie, istorie

Clasa a VI-a

Limba română

1. *bricheta*= 7 sunete, *geamul*= 5 sunete **1p.** 0,5p. x 2

2. antonimele potrivite pentru sensul din text al fiecăruia dintre cuvinte:

chema= alunga; *blând*= dur, aspru **1p.** 0,5p. x 2

3. propoziții și funcții sintactice **4p.**

1p. x 2 (construirea propozițiilor care includ părțile de vorbire menționate) + 1p. x 2 (părțile de vorbire îndeplinesc, în propoziții, funcțiile sintactice precizate în cerință)

4. prezentarea impresiilor **2p**

prezentare convingătoare – 2p., prezentare ezitantă -1p .

5. compunere **7p.**

4p. conținut

- relatarea unor întâmplări, respectând succesiunea logică a evenimentelor 2p

- relatarea unor întâmplări, fără respectarea succesiunii logice a evenimentelor 1p

- adecvarea conținutului la cerință 2p

- conținut parțial adecvat 1p

3p. redactare

- unitatea textului, coerența textului 1p

- ortografia și punctuația 1p

- lizibilitatea, așezarea în pagină 1p

Istorie

Barem:

I. **1x5p** 1. b) 2. a) 3. d) 4. e) 5. c)

II. **1x5p** 1. Cruciade 2. Papa 3. Nobili 4. Moldova 5. Vlad Țepeș

III. **1x5p** a. F b. F c. A d. A e. A

Geografie

- **Nu se acordă punctaje intermediare, altele decât cele precizate explicit prin barem. Nu se acordă fracțiuni de punct.**

Subiectul I 5 puncte

Se acordă câte **un punct** pentru fiecare răspuns corect: 1. Peninsula Crimeea, 2. Peninsula Balcanică, 3. Insula Islanda, 4. Peninsula Iberică, 13. Peninsula Scandinavă

Subiectul II 1,5 puncte

Se acordă câte **0,5 puncte** pentru fiecare răspuns corect: 1. b 2. d 3. a

Subiectul III 2 puncte

Se acordă câte **0,5 puncte** pentru fiecare răspuns corect: 1. 12; 2. Nordului; 3. 6; 4. Pădurea Neagră

Subiectul IV - 6,5 de puncte

1. Se acordă câte **un punct** pentru fiecare răspuns corect: 5. Munții Ural, 8. Munții Carpați, 10. Munții Pirinei, 13. Munții Apenini, 16. Munții Alpi

2. Se acordă câte **0,5 puncte** pentru fiecare răspuns corect: A. c, B. c, C. a